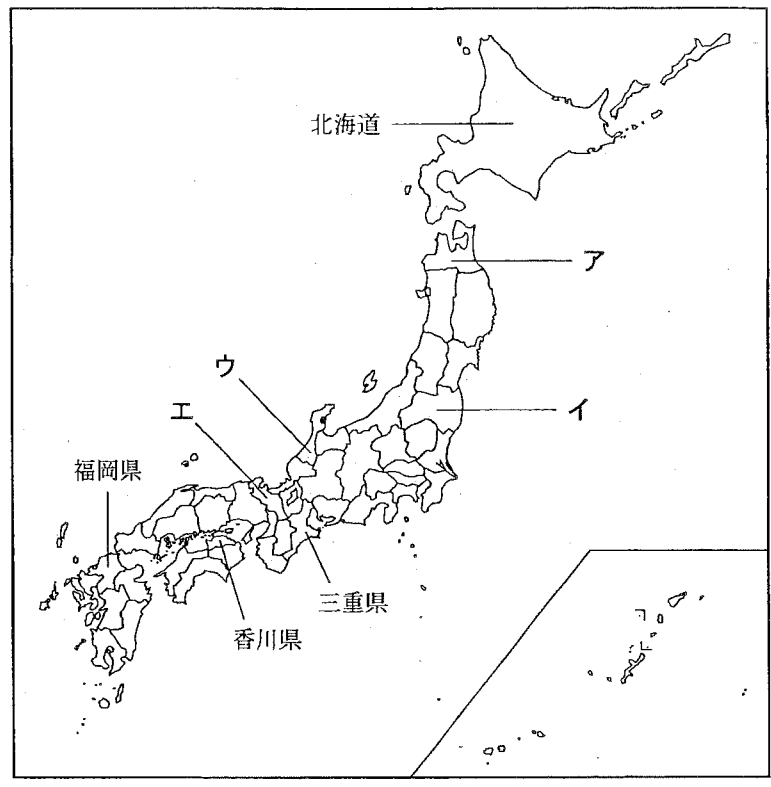
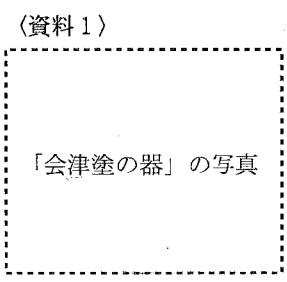


1 次の略地図を見て、あとの各問いに答えなさい。(9点)

(1) 次の資料1は、伝統的 (略地図)

工芸品として国の指定を受けている、漆器の会津塗の1つを示した写真である。資料1に示したような、漆器の会津塗が伝統的工芸品として指定されている県はどこか、最も適当なものを、略地図中のア～エから1つ選び、その記号を書きなさい。



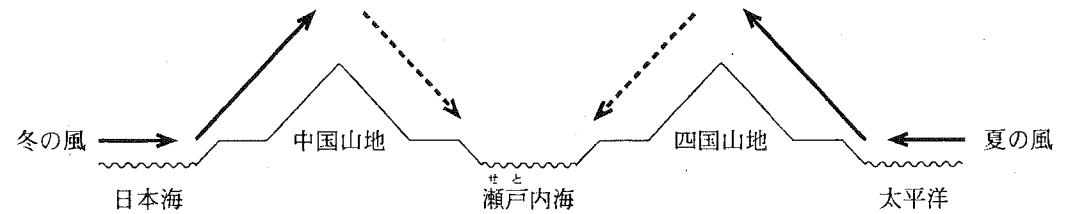
(「日本国勢図会 2013/14」, ほかから作成)

(2) 略地図に示した北海道にある、ユネスコの世界自然遺産として最も適当なものはどれか、次のア～エから1つ選び、その記号を書きなさい。

- [ア. 知床 (しれとこ)      イ. 屋久島 (やくしま)      ウ. 白神山地 (しらかみ)      エ. 小笠原諸島 (おがさわら)]

(3) 略地図に示した香川県にある讃岐平野では、ため池をつくり、年間を通じて農業用水を確保している。次の資料2は、中国・四国地方の、冬と夏の季節風のようなすを模式的に示したものである。讃岐平野で、ため池をつくり、年間を通じて農業用水を確保しているのは、讃岐平野の気候にどのような特徴があるからか、特徴の1つとして考えられることを、資料2から読み取れる風の流れにふれて、書きなさい。

(資料2)



[注: → は濡った風の流れを, ---→ は乾いた風の流れを示す。瀬戸内海にある島は省略。]