

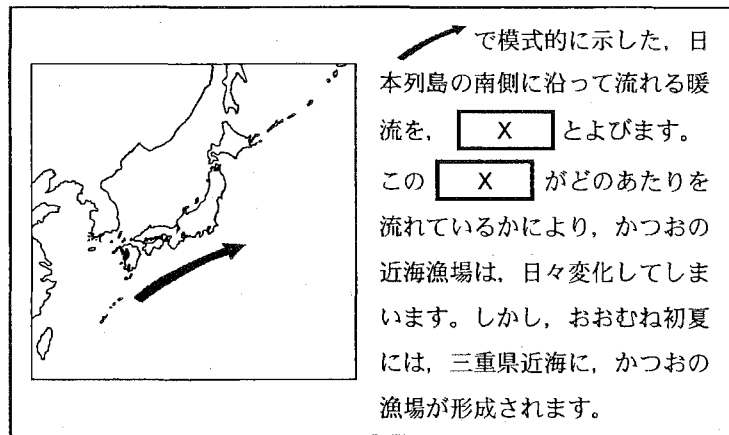
- (4) 略地図に示した福岡県について述べた文として最も適当なものはどれか、次のア～エから1つ選び、その記号を書きなさい。

- ア. ほりをめぐらし、見張りのためのやぐらをそなえた、弥生時代の大規模な集落のあとよしのがの吉野ヶ里遺跡がある。
- イ. 15世紀の初めには、琉球王国がたてられ、第二次世界大戦後には、アメリカの統治のもとに置かれた。
- ウ. 筑豊炭田の石炭と中国から輸入された鉄鉱石などを使って鉄を生産する、八幡製鉄所が20世紀の初めにつくられた。
- エ. 桜島があり、火山活動にともなう噴出物でできたシラス台地では、畑作や畜産がさかんである。

- (5) 略地図に示した三重県について、次の(a)、(b)の各問いに答えなさい。



- (a) 右の資料3は、日本有 (資料3)

数のかつおの漁獲量をほこる三重県の漁業の特徴について、やすしさんがノートにまとめたもの的一部分である。資料3の  にあてはまる最も適当な言葉は何か、書きなさい。



(〔三重県水産研究所〕Webページ、ほかから作成)

- (b) やすしさんは、三重県の農業についても調べるために、いくつかの資料を集めた。次の資料4は、三重県の総農家数の推移を示したもの、資料5は、三重県の耕地面積の推移を示したものである。三重県の農業には、どのような傾向がみられるか、その1つとして考えられることを、資料4、資料5から読み取れることをもとにして、「農家1戸あたりの耕地面積」という言葉を用いて、書きなさい。



次のページへ→