
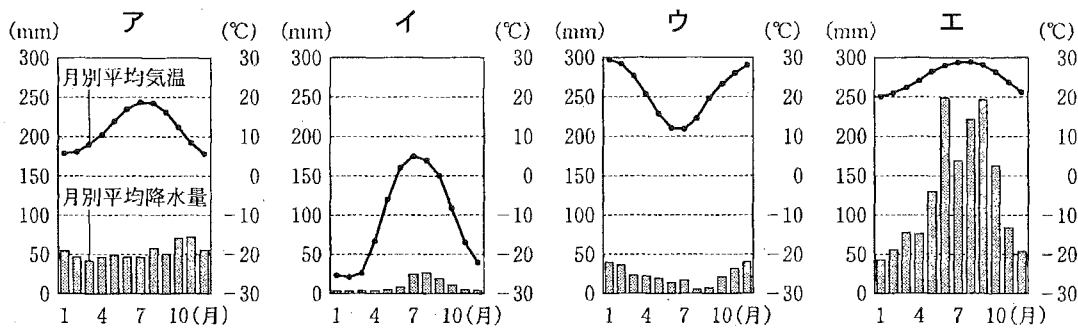


- (3) 略地図に  で示したあたりに広がる、世界最大の砂漠^{さばく}を何というか、書きなさい。
- (4) 次のア～エのグラフは、それぞれ略地図にA～Dで示したいずれかの都市における、月別平均降水量と月別平均気温をあらわしたものである。略地図にCで示した都市の月別平均降水量と月別平均気温をあらわしているグラフとして最も適当なものはどれか、次のア～エから1つ選び、その記号を書きなさい。



(理科年表 平成25年度)から作成

- (5) 略地図に示した中国は、米、小麦の生産量が世界第1位である。次の資料2は、2010年の、米、小麦のいずれかの、生産量が多い上位5か国とその生産量を示したものである。米の生産量が多い上位5か国とその生産量を示しているのは、資料2のア、イのうちどちらか、その記号を書きなさい。また、そのように判断した理由を、米の生産量が多い上位5か国それぞれが属する州の名称にふれて、書きなさい。

〈資料2〉

ア

生産国	中国	インド	インドネシア	バングラデシュ	ベトナム
生産量	19,721 万 t	12,062 万 t	6,641 万 t	4,936 万 t	3,999 万 t

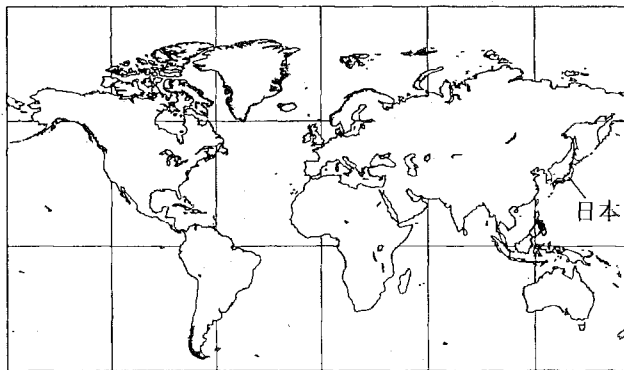
イ

生産国	中国	インド	アメリカ	ロシア	フランス
生産量	11,518 万 t	8,071 万 t	6,010 万 t	4,151 万 t	3,821 万 t

(データブック オブ・ザ・ワールド 2013年版)から作成

- (6) 右の資料3は、略地図とは中心が異なる世界地図の一部を示したものである。日本が「極東にある国」とよばれることもあるのはなぜか、その理由の1つとして考えられることを、資料3と略地図で示されている日本の位置のちがいをもとにして、「ヨーロッパ」という言葉を用いて、書きなさい。

〈資料3〉



(緯線と経線が直角に交わった地図。国境は省略。)

(世界国勢図会 2012/13, ほかから作成)

次のページへ→